

Je joue...

Kies uit :

au basket - au ping-pong - au tennis - au football - au badminton -
au volley



Ik tennis

Je joue au tennis



Ik voetbal (spel voetbal)

Je joue au football



Ik badminton

Je joue au badminton




Ik (spel) basket

Je joue au basket



Ik spel volleybal

Je joue au volley




Ik spel ping-pong
spel tafeltennis

Je joue au ping-pong

Je fais...

Kies uit :

du vélo - de la natation - du ski - de la gymnastique - du skate -
de l'athlétisme



Ik Zwem

Je fais de la natation




Ik doe atletiek

Je fais de l'athlétisme



Ik rolschaats

Je fais du skate



Ik ski

Je fais du ski



Ik doe gymnastiek

Je fais de la gymnastique



Ik fiets / doe wielrennen


Je fais du vélo

Il/elle aime quel sport? Répondez les questions!



Marie

paardrijden
Je déteste le foot. J'adore l'équitation, c'est mon sport préféré. J'aime aussi la natation. Et le hockey, bof, c'est OK.



Hugo

mountainbike
Mon sport préféré, c'est le VTT. J'aime aussi l'athlétisme et le golf. Je n'aime pas faire des patins à roulettes.




Sarah

Je déteste le foot et la gymnastique. J'aime le basket et le tennis.



Maxime

Je fais beaucoup de sport. J'adore le football et le rugby. J'aime aussi la gymnastique et le handball. Le seul sport que je n'aime pas, c'est le volley-ball.



Laura

J'aime le snooker et le ping-pong. Mon sport préféré, c'est le VTT. Je n'aime pas le basket-ball et le judo.

Qui aime la gymnastique?

..... Maxime

A qui est le VTT le sport préféré?

Laura...../Hugo

Qui déteste la foot?

..... Sarah

Qui adore les chevaux?

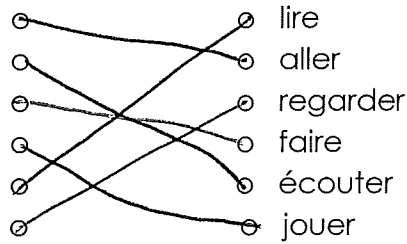
..... Marie

Qui a une balle de basket?

..... Sarah

Zoek het gepaste werkwoord zodat alle zinnen kloppen.

J'aime aller en ville.
 J'aime écouter de la musique.
 J'aime faire du sport.
 J'aime jouer au foot.
 J'aime lire le journal.
 J'aime regarder la télé.



Qu'est-ce qu'ils disent?



- A. J'ai fait de la natation.
- B. J'ai lu.
- C. J'ai écouté de la musique.
- D. J'ai fait de la danse.
- E. J'ai fait du vélo.
- F. Je me suis reposé(e).
- G. Je suis allé(e) au cinéma.
- H. J'ai joué au foot.
- I. J'ai joué au tennis.
- J. Je suis allé chez mes copains.
- K. J'ai regardé la télé

Les loisirs de Gwen Stefani



Bonjour!

Je m'appelle Gwen et j'ai 38 ans. Je suis très sportive. Mon sport préféré c'est le tennis et ce que j'adore c'est la danse. Je fais de la danse tous les jours avec mes amis. C'est fantastique ! Je joue au tennis avec mon ami une ou deux fois par semaine, le samedi et le lundi. Je déteste totalement jouer au golf. C'est ennuyeux ! Le cyclisme, bof, je n'aime pas faire du cyclisme.

Le weekend j'aime aller en ville et j'adore faire les courses. J'aime aussi écouter de la musique, spécialement mon nouveau CD, 'The Sweet Escape'. Le dimanche soir je lire des livres, puis je joue à l'ordinateur. Mon livre préféré c'est 'Bridget Jones' Diary'. Mon ami aime aller à la pêche, mais moi je n'aime pas ça! Je déteste aller au McDonald's, parce que je n'aime pas les frites et les hamburgers!

Quand il pleut je reste à la maison et je lis un livre. Quand il y a du soleil je joue au tennis ou je vais en ville avec mes copains. Quand il fait chaud je vais à la plage. J'aime ça!

Comment le dit-on dans le texte...

Ik ben heel sportief.

Mijn favoriete sport is...

elke dag

één keer per week

Ik hou helemaal niet van...

Ik hou daarvan !

Je suis très sportive.
Mon sport préféré c'est...
tous les jours
une fois par semaine
Je déteste totalement
J'aime ça.

Remplis le programme d'activités de Gwen Stefani.

	lundi	mardi	mercredi	jeudi	vendredi	samedi	dimanche
Elle fait la danse...	x	x	x	x	x	x	x
Elle va en ville...						x	x
Elle lit des livres...							x
Elle joue au tennis...	x					x	

Louise wil een zo goedkoop mogelijke fiets met standaardrem en fietscomputer.


Voor welke fiets zal zij kiezen?

- A Lion express
- B Wild tiger
- C Mighty leopard
- D Giant giraffe

Mieke wil een nieuwe fiets met een standaardzadel, standaardstuur, stalen velgen en een moderne fietsbel.

Voor welke fiets zal zij kiezen?

- A Lion express
- B Wild tiger
- C Mighty leopard
- D Giant giraffe



Zijn de volgende uitspraken over de fietsen in de tabel juist of fout?

Duid aan.

a. Hoe zwaarder de fiets, hoe duurder hij is.

juist

fout

b. De goedkoopste fiets heeft alleen standaardonderdelen.

juist

fout

Zijn de volgende uitspraken over de fietsen in de tabel juist of fout?

Duid aan.

a. Marie heeft een 'Lion express'. Om de verlichting vooraan te laten branden, heeft ze 2 AA-batterijen nodig.

juist

fout

b. Als Manon een fiets met aluminium velgen wil, zal zij de 'Wild tiger' moeten kopen.

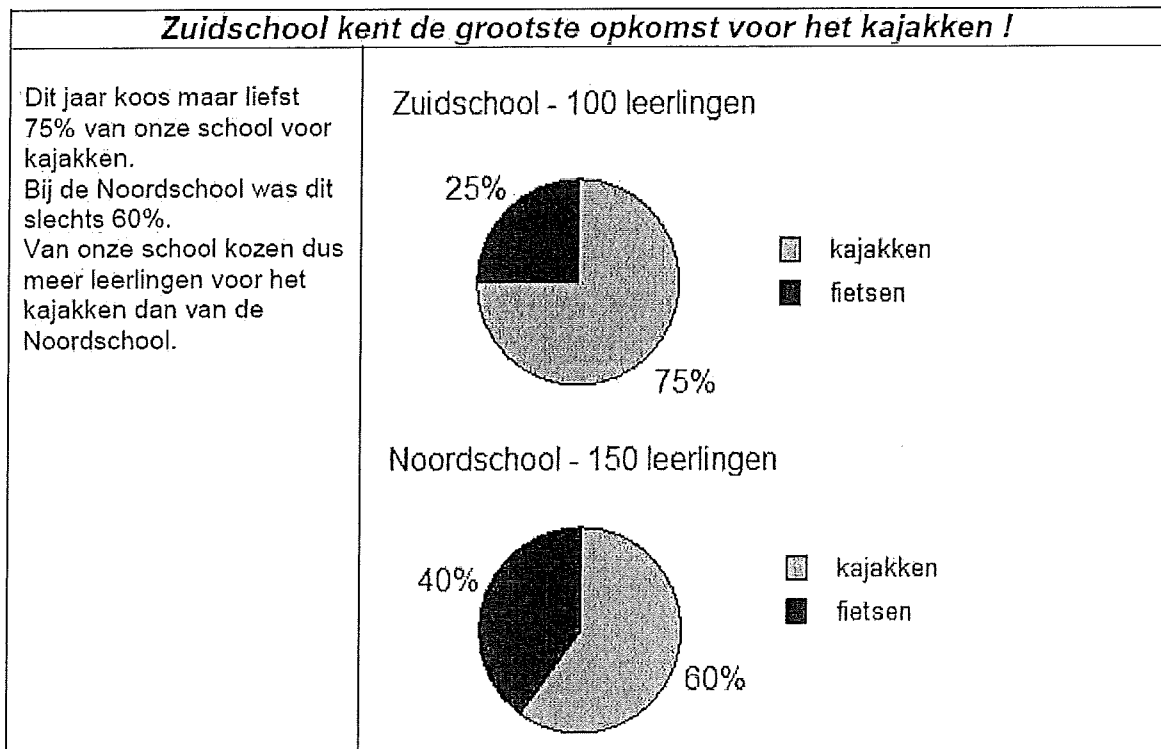
juist

fout

Sportieve doordenkers

SPORTDAG

De Zuidschool en de Noordschool uit onze gemeente organiseren dit jaar samen de sportdag.
In de schoolkrant van de Zuidschool werd achteraf het volgende artikel gedrukt.



Is de inhoud van dit artikel juist of fout? Trek een kring rond het juiste antwoord.

Is de inhoud van dit artikel juist of fout? Trek een kring rond het juiste antwoord.

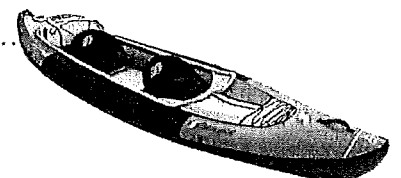
juist

fout

Leg duidelijk uit waarom.

75% van 100 lln. = 75 lln.

60% van 150 lln. = 90 lln.



BOWLEN


Maria, Jana, Fatima en Mercedes gaan bowlen.

Na het tweede spelletje moet Fatima haar punten nog opschrijven.
Zij heeft nu meer punten dan bij het 1^e spel. Toch eindigt zij weer als tweede.

Vul de punten in die Fatima bij het tweede spel gescoord kan hebben.

Geef twee mogelijke antwoorden.

Eerste mogelijkheid:		
	1 ^e spel	2 ^e spel
Maria <i>3</i>	144	190
Jana <i>4</i>	135	158
Fatima <i>2</i>	180	<i>181/182/183/184/185/</i>
Mercedes <i>1</i>	187	<i>186/187/188/189</i>
Tweede mogelijkheid:		
	1 ^e spel	2 ^e spel
Maria	144	190
Jana	135	158
Fatima	180	<i>Zie. boven ↑</i>
Mercedes	187	172



BARBECUE

Tennisclub 'De Berg' organiseert een barbecue.
Het bestuur koopt vlees.

<u>Vlees</u>	<u>inkoopprijs per stuk</u>
brochette	1,45 euro
hamburger	1,60 euro
kipfilet	1,70 euro
worst	1,35 euro

Het bestuur verkoopt het vlees met 40 % winst en rondt de prijzen af tot 10 cent nauwkeurig.

Vul de ontbrekende prijs in.

<u>Vlees</u>	<u>verkoopprijs per stuk.</u>
brochette	2,10 euro
hamburger	2,30 euro
kipfilet	2,40 euro
worst	1,90 euro



MARATHON

De marathon is een loopwedstrijd van 42 km. In de marathon van Brussel liep Jacques deze afstand in 2 uur 40 minuten en 55 seconden. Nieke fietst met een gemiddelde snelheid van 14 km per uur.

Hoe lang fietst zij om 42 km af te leggen?

Schrijf hier jouw werkwijze:

1 uur
4
3 uur


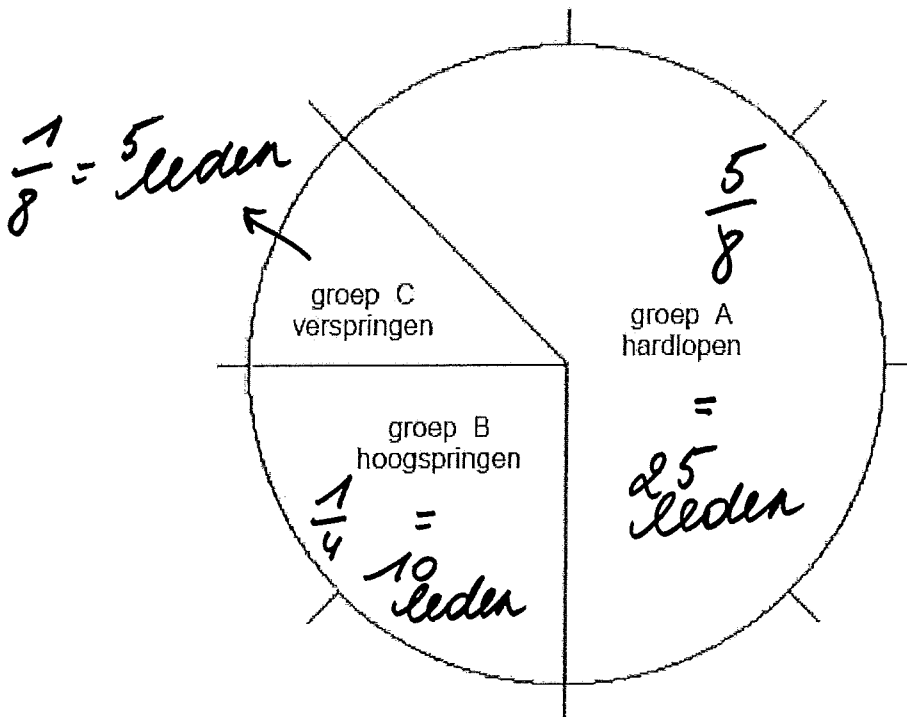
14 km
3x
42 km



ATLETIEKWEDSTRIJD

40 leden van de atletiekclub nemen elk deel aan één wedstrijd. De trainer beslist wie gaat hardlopen, hoogspringen of verspringen.

In het cirkeldiagram zijn de aantallen per groep voorgesteld.



Vul het aantal deelnemers per groep in.

Schrijf hier jouw werkwijze:

Handwritten work process:

- $\frac{1}{8} \text{ van } 40 = 5$
- $\frac{1}{4} \text{ van } 40 = 10$
- $\frac{5}{8} \text{ van } 40 = 25$

WAT DOEN WE?

Deze namiddag mogen alle kinderen van de school een activiteit kiezen.

$\frac{1}{4}$ van de leerlingen kiest voor muziek, $\frac{1}{4}$ speelt graag volleybal, $\frac{1}{3}$ kiest voor voetbal en de rest van de kinderen wil het liefst knutselen.

Welk deel van de kinderen wil het liefst knutselen?

A $\frac{1}{12}$ van de kinderen

B $\frac{2}{12}$ van de kinderen

C $\frac{1}{3}$ van de kinderen

D $\frac{8}{11}$ van de kinderen

$$\frac{12}{12} - \frac{3}{12} - \frac{3}{12} - \frac{4}{12} = \frac{2}{12}$$



FIETSTOCHT

Onze school organiseert jaarlijks een grote fietstocht.

Er zijn 2 categorieën.

De deelnemers met een goede conditie pauzeren elke keer na 12 km fietsen.

De andere deelnemers pauzeren na iedere 8 km.

Na hoeveel km pauzeren beide groepen voor het eerst gezamenlijk op één plaats?

- A na 20 km
- B na 24 km
- C na 56 km
- D na 64 km
- veelvouden v: 8 : 0 - 8 - 16 - 24 - 32*
- veelvouden v: 12: 0 - 12 - 24 - 36*

VOETBALUITSLAGEN

Bekijk enkele voetbaluitslagen van dit weekend.

Thuisploeg	Aantal doelpunten	Bezoekers	Aantal Doelpunten
Lokeren	1	Westerlo	1
Genk	5	Waregem	2
FC Brussels	1	Cercle Brugge	4

Bij deze voetbaluitslagen staat de thuisploeg steeds vooraan vermeld.

Hoeveel % van het totale aantal doelpunten werd gemaakt door de thuisploegen?

50 ... procent

$$\begin{aligned} & 7 \text{ van de } 14 \\ & = \frac{7}{14} = 50\% \end{aligned}$$

KATOEN?

In mijn broek hangt dit etiket. De stof is samengesteld uit ... % katoen en 30 % polyester.



Met hoeveel % katoen is de stof gemaakt?

70 ... %